

منطقة حولي التعليمية

اختبار نهاية الفترة الدراسية الأولى

العام الدراسي 2020/2019م

الصف الخامس

نموذج إجابة اختبار مادة

الاجتماعيات

السؤال الأول : الموضوعي ويتكون من ( أ - ب - ج - د - هـ ) : ( درجة واحدة لكل إجابة )

( أ ) ظلل الخيار الصحيح من بين الخيارات التي تلى كل عبارة:

١- يتركز استزراع الأسماك في دولة الكويت في منطقة الوفرة ومنطقة أخرى : ص ٥٤

العبدلي	المطلاع	الخيران	الشقايا
---------	---------	---------	---------

٢- يبلغ عدد قارات العالم : ص ٢١

٦	٧	٨	٩
---	---	---	---

٣- الشيخ الذي تم اكتشاف النفط في عهده : ص ٥٩

أحمد الجابر الصباح	عبد الله السالم الصباح	صباح السالم الصباح	جابر الأحمد الصباح
--------------------	------------------------	--------------------	--------------------

٤- من الموارد الطبيعية الحية في دولة الكويت : ص ٣٨

الماء	الرياح	الحيوانات	الغاز الطبيعي
-------	--------	-----------	---------------

٥- تقع دولة الكويت بالنسبة لشبه الجزيرة العربية في جهة : ص ٢٣

الجنوب الشرقي	الجنوب الغربي	الشمال الغربي	الشمال الشرقي
---------------	---------------	---------------	---------------



٦- الشعار الذي تمثله الصورة التي أمامك : ص ٦٤

العمل التطوعي	ترشيد الإستهلاك	التدوير	جمعية حماية البيئة
---------------	-----------------	---------	--------------------

تابع نموذج إجابة امتحان نهاية الفترة الدراسية الأولى لمقرر بلادي الكويت للصف الخامس ٢٠٢٠/٢٠١٩ م

**(ب) أملأ الفراغات التالية بما يناسبها :**

١. منفذ أو ممر ضيق من الماء يفصل بين مسطحين مائيين يسمى المضيق. ص ٢٤
٢. العام الذي تم فيه تصدير أول شحنة نفط في دولة الكويت عام ١٩٤٦. ص ٥٩
٣. مصدر للطاقة غير المتجددة آمن وصديق للبيئة يسمى الغاز الطبيعي. ص ٧٨
٤. القارة التي تقع فيها بلادي الكويت اسمها آسيا. ص ٢١
٥. النبات الذي ينمو دون تدخل الإنسان يسمى النبات الطبيعي. ص ٤٢
٦. المكان الذي نعيش فيه ونمارس فيه نشاطاتنا المختلفة يسمى البيئة. ص ٦٣






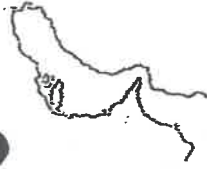


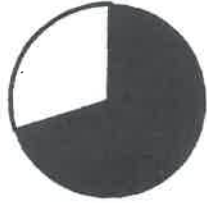
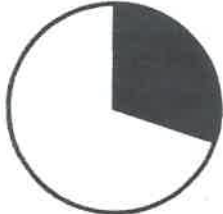


**(ج) أمامك خريطة دولة الكويت – أكتب الرقم الدال على العبارات التي تليها:**



- \* المملكة العربية السعودية تحمل الرقم (٤). ص ٦٠
- \* منطقة الوفرة تحمل الرقم (٦). ص ٥١
- \* حقل برقان يحمل الرقم (٥). ص ٦٠
- \* منطقة الشقاييا تحمل الرقم (٢). ص ٥١

تابع نموذج إجابة امتحان نهاية الفترة الدراسية الأولى لمقرر بلادي الكويت للصف الخامس ٢٠٢٠/٢٠١٩ م

(د) اختر الإجابة المناسبة للعبارة التالية بوضع دائرة حولها :

العبرة	(أ)	(ب)
١- أكبر قارات العالم مساحة ص ٢١		
٢- الإقليم المناخي الذي تقع ضمنه بلادي الكويت ص ٤١		
٣- المسطح المائي الذي تطل عليه جميع دول الخليج العربية ص ٢٤		
٤- من أدوات صيد الأسماك قديماً في الكويت ص ٥٣		
٥- الجزء المظلل الذي يمثل نسبة المياه من سطح الكرة الأرضية ص ١٧		
٦- من أقدم مصادر الطاقة التي عرفها الإنسان ص ٧٧		

( هـ ) : أكمل الناقص في الشكل التالي :-



تابع نموذج إجابة امتحان نهاية الفترة الدراسية الأولى لمقرر بلادي الكويت للصف الخامس ٢٠٢٠١٢٠١٩ م

السؤال الثاني ( أ - ب - ج ) :

( أ ) عرف مايلى : (درجتان)

١- المحيط	مسطح كبير جداً من الماء المالح . ص ١٩
٢- العالم الإسلامي	مجموعة من الدول التي يكون فيها عدد المسلمين ٥٠% فأكثر من مجموع السكان. ص ٣٠

(ب) أكتب نقطتين فيما يلي : (٤ درجات)

١- إستخدامات النفط . ص ٥٥

\*الإضاءة والتدفئة

\* مشتقات مثل البنزين والكيروسين وتستخدم في تشغيل المصانع وتحريك وسائل النقل المختلفة.

\* يدخل في الصناعات الكيماوية.

٢- المنشآت التي تستخدم الطاقة الشمسية في دولة الكويت . ص ٨٢

\* المساجد مثل : مسجد فاطمة العوضي.

\* الجمعيات التعاونية مثل جمعية العدلية التعاونية وجمعية الزهراء التعاونية.

\* مطار الكويت الدولي الجديد مبنى الركاب (٢).

\* مركز الشيخ عبد الله السالم الثقافي.

(ج) أذكر مثال واحد لكل نوع من النباتات التاليه : (درجتان)

النباتات المعمرة (الدائمة) ص ٤٢	النباتات الحولية (الموسمية) ص ٤٢
* العرفج / الرمث	* الربلة / الخزامى.

تابع نموذج إجابة امتحان نهاية الفترة الدراسية الأولى لمقرر بلادي الكويت للصف الخامس ٢٠١٩|٢٠٢٠ م

السؤال الثالث يتكون من ( أ - ب - ج ) :

(أ) أقرأ الفقرة التالية ثم أجب على الاسئلة التي تليها : ( ٣ درجات)

" من أجل الحفاظ على البيئة تم إنشاء المحمية الطبيعية في دولة الكويت وهي أماكن تخصصها الدولة لحماية الحيوانات والنباتات المهددة بالانقراض.. " ص ٤٥

- ١- عرف ماتحته خط .
- المحمية الطبيعية: أماكن تخصصها الدولة لحماية الحيوانات والنباتات المهددة بالانقراض.
- ٢- عدد جهود الدولة في المحافظة على النبات الطبيعي. (يكتفى بنقطتين فقط)
- \*إنشاء المحميات الطبيعية مثل محمية صباح الأحمد.
- \*سن القوانين لمنع إتلاف وتدمير وقطع النباتات الطبيعية.
- \*تحديد مواسم التخيم في فصل الربيع.

(ب) قارن بين كل مما يلي حسب ماهو مطلوب منك بالجدول التالي : ص ٧٣ (٤ درجات)

أوجه الاختلاف	الطاقة المتجددة	الطاقة غير المتجددة
المفهوم	هي التي لا تنتهي ولا تنفذ وتسمى الطاقة النظيفة.	هي التي تنتهي ولا يمكن تعويضها في زمن قصير.
مميزاتها (يكتفى بنقطة واحدة فقط)	* غير ملوثة للبيئة * متواجدة بشكل دائم * اقتصادية * بديلة عن الطاقة الغير متجددة	* متوفرة حالياً بكميات كبيرة * تنتج طاقة حرارية كبيرة جداً

(ج) علل لما يلي : (درجة)

- ١- انخفاض مستمر في أعداد الثروة الحيوانية بالكويت في السنوات الأخيرة . ص ٤٨
- بسبب الصيد والاتجار غير القانوني وتلوث البيئة.

إنتهت الأسئلة ،،